

---

**CARGO: OFICIAL ADMINISTRATIVO**

---

**LEIA ATENTAMENTE AS INSTRUÇÕES ABAIXO.**

1. Você recebeu do fiscal o seguinte material:
  - a) Este caderno com questões objetivas, sem repetição ou falha.
  - b) **CARTÃO-RESPOSTA** destinado às respostas das questões objetivas formuladas nas provas.
2. Verifique se este material está em ordem e se o seu nome e número de inscrição conferem com os que aparecem no **CARTÃO-RESPOSTA**. Caso contrário, notifique **IMEDIATAMENTE** ao fiscal.
3. Após a conferência, o candidato deverá assinar, no espaço próprio do **CARTÃO-RESPOSTA**, a **caneta esferográfica de tinta cor preta ou azul**.
4. No **CARTÃO-RESPOSTA**, a marcação das letras correspondentes às respostas certas deve ser feita cobrindo todo o espaço compreendido, a caneta esferográfica de tinta cor preta ou azul, de forma contínua e densa. A LEITORA ÓTICA é sensível a marcas escuras, portanto, preencha os campos de marcação completamente, sem deixar claros.
5. Tenha muito cuidado com o **CARTÃO-RESPOSTA**, para não o **DOBRAR, AMASSAR ou MANCHAR**. O **CARTÃO-RESPOSTA SOMENTE** poderá ser substituído se, no ato da entrega ao candidato, já estiver danificado.
6. Para cada uma das questões objetivas, são apresentadas alternativas que só uma responde, adequadamente, ao quesito proposto. Você só deve assinalar **UMA RESPOSTA**, a marcação em mais de uma alternativa anula a questão, **MESMO QUE UMA DAS RESPOSTAS ESTEJA CORRETA**.
7. As questões objetivas são identificadas pelo número que se situa acima de seu enunciado.
8. **SERÁ ELIMINADO do CERTAME PÚBLICO** o candidato que:
  - a) Se utilizar, durante a realização das provas, de máquinas e/ou relógios de calcular, bem como de rádios gravadores, headphones, telefones celulares ou fontes de consulta de qualquer espécie;
  - b) Se ausentar da sala em que se realizam as provas levando consigo o **CARTÃO-RESPOSTA**.
9. Reserve os 30 (trinta) minutos finais para marcar seu **CARTÃO-RESPOSTA**. Os rascunhos e as marcações assinaladas no **CADERNO DE QUESTÕES NÃO SERÃO LEVADOS EM CONTA**.

**Texto 1**

Filha do senador Romário escreve carta ao ministro da Educação

Ivy Faria, 16 anos, é uma pessoa com deficiência e diz que em nada atrapalha aos colegas de sua classe

A filha caçula do senador Romário (PL-RJ) Ivy Faria, divulgou, em suas redes sociais, carta ao ministro da Educação, Milton Ribeiro. A menina, que tem síndrome de down, diz estar triste com a fala do ministro...

O ministro da educação, em entrevista ao programa 'Sem Censura', da TV Brasil, na última segunda-feira (9/8), disse que crianças com deficiências "atrapalhavam" os demais alunos sem a mesma condição quando colocadas na mesma sala de aula.

**Texto 2**

"Seu ministro da Educação, aqui é a Ivy, eu estou muito triste com Sr. Sabe, eu tenho síndrome de Down, sou uma pessoa com deficiência, e sou estudante. Eu estudo para ter um futuro e ajudar o meu país. Eu não atrapalho ninguém. Frequento uma escola regular, onde há jovens com e sem deficiência, cada um aprende no seu tempo, ninguém é igual. A minha presença e a de outras pessoas com deficiência não é ruim, muito pelo contrário, desde a escola, meus coleguinhas aprendem uma lição que parece que o Sr. não teve a oportunidade de aprender, que a diversidade faz parte da natureza humana e isso é uma riqueza."

1. Assinale a alternativa correta sobre a forma de tratamento adequada para autoridade.

- Senador>Vossa Santidade.
- Ministro da Educação> Vossa Santidade.
- Senador> Majestade
- Ministro> Excelência - Vocativo: Excelentíssimo Senhor.

2. Marque a opção correta.

- carta argumentativa é um texto informativo com uso ultrapassado, substituída pelas redes sociais.
- o texto 2 tem a finalidade de defender um ponto de vista e apresentar argumentos que o comprovem.
- em cartas argumentativas- é exigido, somente, remetente e assinatura.
- ambos os textos tem a função de estabelecer convívio afetivo e pessoal com o Ministro.

3. A palavra "coleguinha" no texto 2 foi utilizada no sentido de

- chateação.
- carinho.
- desgosto.
- compaixão.

4. Analise a imagem abaixo.



O substantivo coletivo da palavra "anjo" é

- coro.
- colmeia.
- batalhão.
- Arquipélago.

5.




Na língua portuguesa identificamos os tipos de frase através das entonações da voz e na escrita por meio dos sinais de pontuação. Quanto à tira, é possível perceber que:

- no quadrinho 1 há frases interrogativas.
- no quadrinho 2 há uma frase interrogativa.
- No quadro 3 foi usada uma frase exclamativa.
- No quadro 4 foram usadas frases negativas e afirmativas.

6.

← Tweet



Vamos celebrar a Democracia! Assine a carta às brasileiras e aos brasileiros em Defesa ao Estado Democrático de Direito!

#CartaPelaDemocracia #EstadoDeDireitoSempre

Como é a ortografia do substantivo derivado do verbo “celebrar”?

- a) celebração
- b) celebrassão
- c) celebrasão
- d) selebração

7. A história de um aprovado no vestibular de medicina aos 83 anos

Valdomiro de Souza, que deve se graduar quase aos 90, quer se especializar em geriatria

“Quería ser médico. Passei a vida sonhando estar vestido de jaleco branco.

Entrei no escritório como servente, mais tarde saí contador e gerente e descobri que para vencer é preciso focar, batalhar e nunca desistir”

Marque a alternativa em que aparecem somente substantivos como o termo “servente”, que apresenta uma só forma para o gênero masculino e o gênero feminino.

- a) Agente, aluno, intérprete e lojista.
- b) Patriota, viajante, artista e perseguidor.
- c) Policial, estudante, parlamentar e jornalista.
- d) Atleta, homem, bode, e protagonista.

8. Leia o trecho abaixo:

A internet como um espaço midiático para a “burrice máxima”

Eliane Brum, no seu artigo: “Parabéns, atingimos a burrice máxima”, diz que “os burros estão por toda parte, muitos deles estudaram nas melhores escolas e, o pior, muitos ensinam nas melhores escolas.” Estas reflexões sobre o mundo internetês seguem a mesma linha de pensamento de Umberto Eco quando diz que “a internet deu voz aos imbecis”, e a Juan Arias, que vai mais longe ao afirmar que ela “organizou os imbecis”. No caso de Eliane Brum, ela foca o Brasil que exala e “cheira mal” nas sessões dos comentários das mídias sociais.

No trecho, os vocábulos destacados, no contexto em que se encontram, têm, respectivamente, como sinônimo e antônimo:

- a) tolo, instruído.
- b) sabido, ágil.
- c) lerdo, débil.
- d) franzino, severo.

9. Assinale a alternativa em que todas as palavras apresentam o mesmo número de sílabas.

- a) Parabéns- atingimos
- b) muitos, melhores
- c) quando, pior
- d) sessões , burrice

10.



Considerando-se o novo acordo ortográfico. Qual palavra não está escrita corretamente?

- a) apoia
- b) auto-escola
- c) jiboia
- d) ultrassonografia

Leia a letra da música abaixo

Olha só você

Depois de me perder

Veja só você

Que pena

Você não quis me ouvir

Você não quis saber

Desfez do meu amor

Que pena, que pena

Hoje é você quem está sofrendo, amor

Hoje sou eu quem não te quer

O meu coração já tem um novo amor

Você pode fazer o que quiser

Você jogou fora o amor que eu te dei

O sonho que sonhei, isso não se faz

Você jogou fora a minha ilusão, a louca paixão

É tarde demais

Que pena, amor

Que pena

Hoje é você quem está sofrendo, amor

Hoje sou eu quem não te quer

O meu coração já tem um novo amor

Você pode fazer o que quiser

Você jogou fora o amor que eu te dei

O sonho que sonhei, isso não se faz

Você jogou fora a minha ilusão, a louca paixão

É tarde demais

Que pena

11. No trecho “Você jogou fora o amor que eu te dei”, quanto ao uso do pronome, marque a opção correta.

- a) "você" é um pronome de 3ª pessoa e "te" de 2ª pessoa. Logo, a frase deveria ser reescrita com o pronome oblíquo "lhe".
- b) Sendo que os pronomes oblíquos exercem a função de complementos verbais, deve-se ser empregado o pronome oblíquo "o".
- c) É preciso substituir o pronome "te" por pronome do caso reto, já que, os pronomes do caso reto que devem assumir essa função sintática.
- d) Tendo em vista o pronome relativo "que" retomando o termo que lhe é anterior, é obrigatório substituir o "te" por pronome oblíquo que desempenhe função de objeto direto.



12. Pode-se dizer, em relação ao texto que:

- a) o termo "doces" gera humor, devido a relação de sinonímia.
- b) não há polissemia, pois os termos têm significado único.
- c) "doces tempos" é ambíguo e responsável por desencadear o efeito de humor.
- d) o vocábulo "doces" é polissêmico porque ambas as ocorrências têm sentido denotativo.

## MATEMÁTICA

13. Ana é professora de biologia e está planejando uma aula sobre peixes e moluscos no laboratório da escola em que trabalha. O aquário desse laboratório necessita de limpeza, e, para isso, todos os animais serão temporariamente removidos para troca de água. Considere que esse aquário esteja completamente de água e possua formato de um paralelepípedo retângulo com 3m de comprimento, 2m de largura e 1,2m de profundidade. A quantidade de água, em metros cúbicos, que deverá ser descartada é:

- a) 4,8 m<sup>3</sup>
- b) 7,2 m<sup>3</sup>
- c) 8,0 m<sup>3</sup>
- d) 10,8 m<sup>3</sup>

14. Sobre a classificação dos ângulos na geometria plana, assinale o que for correto.

- a) Ângulo complementar é aquele em que a sua soma resulta em 180°
- b) O ângulo reto possui a abertura é maior que 180° e menor que 360°.

- c) Um ângulo é classificado como côncavo quando a sua abertura é maior que 90° e menor que 180°
- d) A bissetriz de um ângulo é a semirreta que parte de seu vértice o divide em dois ângulos iguais

15. Analise as expressões abaixo:

- I.  $(x + y)^0 = 0$
- II.  $(x - y)^2 = x^2 + 2xy + y^2$
- III.  $(x \cdot y)^2 = x^2y^2$
- IV.  $(x + y)^2 = x^2 + y^2$

A expressão correta é:

- a) I
- b) II
- c) III
- d) IV

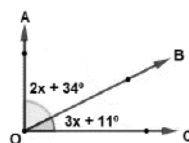
16. A atividade física preferida de Carlos é a corrida. Ele costuma correr três vezes por semana ao redor de uma lagoa perto de sua casa. Um determinado dia, após percorrer uma volta completa nessa lagoa, Carlos notou que o havia dado 32000 passos. Se o passo dado por Carlos possui 70cm, a distância que ele percorreu nesse trajeto é igual a:

- a) 2240 m
- b) 22400 m
- c) 224000 m
- d) 2240000 m

17. Uma caixa d'água com as dimensões 3 metros de comprimento, 2 metros de largura e 2 metros de altura, será capaz de armazenar quantos litros de água?

- (A) 12000 litros.
- (B) 1200 litros.
- (C) 7000 litros.
- (D) 700 litros.

18. Observe os ângulos abaixo:




Considerando que o ângulo AÔC é reto, o valor de x é:

- a) 9°
- b) 27°
- c) 45°
- d) 63°

19. Fernanda foi ao hortifruti e gastou R\$ 42,60 em verduras e R\$ 25,90 em frutas. Ao efetuar o pagamento, ela entregou ao caixa uma nota de cinquenta reais e quatro notas de cinco reais. Quanto Fernanda recebeu de troco?

- a) R\$ 1,00
- b) R\$ 1,50
- c) R\$ 2,00
- d) R\$ 2,30

20. Carlos irá viajar e comprou uma passagem de avião. O horário que ele deve chegar ao aeroporto para fazer o check-in é 3 horas e 30 minutos. O relógio de Carlos marca o seguinte horário:

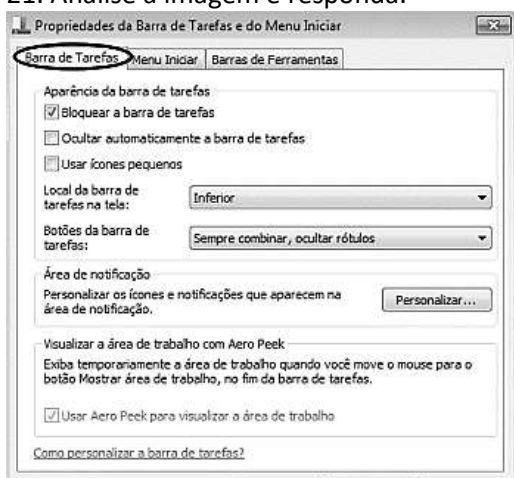


Se ele demora 1 hora e 20 minutos para percorrer o trajeto de sua casa até o aeroporto, é correto afirmar que:

- a) Carlos deve sair de casa daqui a 30 minutos.
- b) Carlos deve chegar ao aeroporto as 2 horas.
- c) Carlos deve sair de casa daqui a 25 minutos.
- d) Carlos não conseguirá chegar no horário correto.

## INFORMÁTICA

21. Analise a imagem e responda.

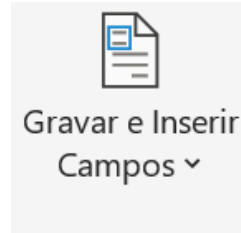


A opção “Bloquear a barra de tarefas”:

- a) reduz a barra a uma linha fina na parte inferior da sua tela.
- b) permite diminuir o tamanho dos ícones expostos na Barra de Tarefas

- c) assegura que a barra não seja manipulada.
- d) define o modo de exposição (se agrupados ou separados) dos botões na Barra de Tarefas.

22. O ícone abaixo é encontrado em qual guia do MS-Word versão mais recente?



- a) Página Inicial
- b) Layout.
- c) Correspondências.
- d) Arquivo.

23. Qual atalho deve ser utilizado para abrir o Menu Contextual do MS-Word?

- a) Alt + M.
- b) Ctrt+ F2.
- c) Tab + Ctrl + C.
- d) Shift + F10.

24. Qual atalho, no WS-Word 2016, é utilizado para executar a ação abaixo?

“Abrir a guia **Página Inicial** para usar comandos de formatação, estilos de parágrafo comuns e a ferramenta Localizar.”

- a) Alt+H.
- b) Ctrl+Shift+F10.
- c) Alt+J.
- d) Ctrl+Alt+S.

25. Analise a imagem abaixo e responda.



Em qual guia do MS-PowerPoint é possível encontrar o ícone acima?

- a) Design.
- b) Exibir.
- c) Revisão.
- d) Inserir.

26. Pode-se considerar o recuo pela régua, um atalho, que substitui o acesso ao comando da faixa de opções. Essa régua, é composta por quatro marcadores, sendo o marcador 4, o responsável por:

- a) movimentar apenas a segunda linha do parágrafo selecionado.
- b) movimentar todo parágrafo selecionado para direita, acompanhando o segundo marcador.

- c) movimentar todo o parágrafo da direita do texto.
- d) movimentar apenas a primeira linha do parágrafo.

---

27. No Excel 2016, cada guia tem vários grupos que mostram os itens relacionados em conjunto. Os grupos abaixo estão localizados em qual guia?

“Informações, Novo, Abrir, Salvar, Salvar Como, Imprimir, Compartilhar, Exportar, Publicar, Fechar, Conta e Opções.”

- a) Página Inicial
- b) Arquivo
- c) Inserir
- d) Dados

---

28. Como selecionar células intercaladas no Excel 2016?

- a) Aperte Shift e setas na direção desejada.
- b) Posicione o cursor na coluna desejada e tecle Ctrl+Barra de espaço.
- c) Posicione o cursor na primeira célula, selecione a região com células consecutivas com Shift e setas. Antes de selecionar a próxima região tecle Shift+F8 para manter a primeira região selecionada. Posicione o cursor na primeira célula da próxima região a ser selecionada, selecione com Shift e setas.
- d) Aperte Ctrl+Shift+Home.

### CONHECIMENTOS ESPECÍFICOS

29. Analise as afirmativas.

Ao Município de Socorro compete, em comum com a União, com os Estados e com o Distrito Federal, observadas as normas de cooperação fixadas na lei complementar:

- I. preservar as florestas, a fauna, a flora e os cursos d'água;
- II. fomentar a produção agropecuária, organizando o abastecimento alimentar e as demais atividades econômicas, inclusive artesanal;
- III. promover programas de construção de moradias populares e a melhoria das condições habitacionais e de saneamento básico;
- IV. combater as causas da pobreza e os fatores de marginalização, promovendo a integração dos setores desfavorecidos;
- V. registrar, acompanhar e fiscalizar as concessões de direitos de pesquisa e exploração de recursos hídricos e minerais em seus territórios;

Estão corretas as afirmativas.

- a) I, II, III, IV e V.
- b) I, II, III e IV, apenas.
- c) III, IV e V, apenas.
- d) I, II, IV e V, apenas.

30. Complete a lacuna

*O poder legislativo é exercido pela Câmara Municipal, composta de Vereadores eleitos através de sistema proporcional, dentre cidadãos maiores de \_\_\_\_\_ no exercício dos direitos \_\_\_\_\_, pelo voto direto e secreto.*

Marque a alternativa que completa corretamente as lacunas.

- a) 16 anos - sociais
- b) 18 anos – políticos
- c) 21 anos - políticos
- d) 22 anos – políticos

---

31. À Câmara compete, privativamente, sem a sanção do Prefeito, as seguintes atribuições, EXCETO:

- a) Eleger sua mesa, bem como destituí-la na forma regimental.
- b) Elaborar o regimento interno.
- c) Organizar os seus serviços administrativos.
- d) Delimitar o perímetro urbano.

---

32. Analise as afirmativas. Perderá o mandato o Vereador:

- I. cujo procedimento for declarado incompatível com o decorro parlamentar;
- II. que deixar de comparecer, em cada sessão legislativa, à terça parte das sessões ordinárias da Casa, salvo licença ou missão por esta autorizada;
- III. que fixar residência fora do Município;
- IV. que perder ou tiver suspensos os direitos políticos.

Estão corretas as afirmativas.

- a) I, II, III, apenas.
- b) III e IV, apenas.
- c) I e II, apenas.
- d) I, II, III e IV

---

33. Imediatamente depois da posse, os Vereadores reunir-se-ão sob a presidência do mais votado dentre os presentes e, havendo maioria absoluta dos membros da Câmara, elegerão os componentes da Mesa que ficarão automaticamente empossados. Proibida a reeleição de qualquer de seus membros para o mesmo cargo, o mandato da Mesa será de:

- a) dois anos.
- b) três anos.
- c) quatro anos.
- d) cinco anos.

---

34. As sessões da Câmara Municipal, terão por local a sua sede, exceto nos seguintes casos:

- I – solenes, que poderão ser realizadas em outro recinto;

II – em decorrência de dispositivo legal, aprovado pela maioria absoluta dos vereadores, quando poderão realizar-se em outro recinto dentro do território do município, desde que provocado por propositura da Mesa Diretora ou Comissão Permanente;

III – se comprovada a impossibilidade de acesso ao recinto da Câmara Municipal ou outra causa que impeça a sua utilização, quando o Presidente ou qualquer vereador solicitará ao Juizado de Direito da Comarca a verificação da ocorrência e a designação de outro local para a realização das sessões.

Estão corretas as afirmativas.

- a) I e II, apenas.
- b) I, II e III.
- c) II, III, apenas.
- d) III, apenas.

---

35. São deveres do vereador, além de outros previstos na legislação vigente, EXCETO:

- a) agir com respeito ao Executivo e ao Legislativo, colaborando para o bom desempenho de cada um desses Poderes.
- b) firmar ou manter contrato com pessoa jurídica de direito público, empresa pública, sociedade de economia mista, empresa concessionária ou permissionária de serviço público municipal.
- c) respeitar, defender e cumprir as Constituições Federal e Estadual, a Lei Orgânica Municipal e demais leis.
- d) usar de suas prerrogativas exclusivamente para atender ao interesse público.

---

36. São órgãos da Câmara Municipal:

- I. Plenário.
  - II. a Mesa.
  - III. as Comissões.
  - IV. os Departamentos de Serviços Internos.
- Estão corretas as afirmativas.

- a) I, II, III, apenas.
- b) III e IV, apenas.
- c) I e II, apenas.
- d) I, II, III e IV

---

37. As sessões da Câmara serão: Ordinárias, Extraordinárias e Solenes. As sessões ordinárias compõem-se das partes:

- a) Apreciação da ata anterior, Expediente e Interesse Pessoal
- b) Expediente, Ordem do Dia e Interesse Pessoal.
- c) Expediente, Ordem do Dia e Matérias de discussão única.
- d) Matérias adiadas, Ordem do Dia e Interesse Pessoal.

38. A Câmara Municipal poderá extraordinariamente ser convocada. Marque a alternativa INCORRETA.

- a) As convocações para as sessões extraordinárias serão expedidas pelo Presidente da Câmara com antecedência mínima de vinte e quatro horas e nelas não se poderá tratar de assunto estranho à convocação.
- b) Sempre que possível, a convocação far-se-á em sessão, caso em que será comunicada por escrito apenas aos ausentes, devendo especificar o dia, a hora e os itens que comporão a Ordem do Dia.
- c) As sessões extraordinárias, que terão a mesma duração das ordinárias, poderão ser em qualquer dia, inclusive domingos, feriados e pontos facultativos porém, não poderão ser noturnas.
- d) Na sessão extraordinária não haverá a parte do Expediente, sendo todo o seu tempo destinado à Ordem do Dia, após a apreciação da ata da sessão anterior.

---

39. A iniciativa popular pode ser exercida pela apresentação à Câmara Municipal de propostas de emendas à Lei Orgânica Municipal ou projetos de lei de interesse específico do Município, da cidade ou de bairros, através de manifestação de, pelo menos:

- a) 2% (dois por cento) do eleitorado do Município.
- b) 5% (cinco por cento) do eleitorado do Município.
- c) 6% (seis por cento) do eleitorado do Município.
- d) 10% (dez por cento) do eleitorado do Município.

---

40. Sobre a Iniciativa Popular no Processo Legislativo, marque a alternativa INCORRETA.

- a) A assinatura de cada eleitor deverá ser acompanhada de seu nome completo e legível, endereço e dados identificadores de seu título eleitoral.
- b) As listas de assinaturas serão organizadas em formulário padronizado pela Mesa da Câmara.
- c) Será lícito à entidade da sociedade civil, não regulamentadas, patrocinar a apresentação de projeto de lei de iniciativa popular, responsabilizando-se, inclusive, pela coleta das assinaturas.
- d) O projeto será protocolado na Secretaria da Câmara, que verificará se foram cumpridas as exigências constitucionais para sua apresentação.

---

**BOA SORTE.**